

## Multi Tasking (Non-Technical) Staff Examination 2019

Roll No.	
Registration No.	
Name	
Test Venue	iON Digital Zone iDZ Azad Puram
Test Time	12:30 PM - 2:00 PM
Test Date	06/08/2019

Section : General English

Q.1 Choose the most appropriate word that can substitute the given group of words.

A group of Lions

- Ans  1. Pack  
 2. Pride  
 3. Herd  
 4. Flock

Question ID : 239087971

Status : Answered

Chosen Option : 1

Q.2 Select the most appropriate meaning of the given idiom.

Pull up your socks

- Ans  1. To lose one's temper  
 2. To put in extra effort  
 3. To play a joke on someone  
 4. To suspect some foul play

Question ID : 239087969

Status : Answered

Chosen Option : 4

Q.3 Select the most appropriate option to substitute the underlined segment in the given sentence. If there is no need to substitute it, select No Improvement.

It is danger to cross the road unmindfully.

- Ans  1. It is dangerous  
 2. It is full of dangerous  
 3. There is danger  
 4. No Improvement

Question ID : 239087956

Status : Answered

Chosen Option : 1

Q.4 Choose the most appropriate word that can substitute the given group of words.

A person pretending to be somebody he isn't

Ans

- 1. Aristocrat
- 2. Hypocrite
- 3. Conservative
- 4. Bureaucrat

Question ID : 239087972  
Status : Answered  
Chosen Option : 2

**Q.5 Find the part of the given sentence that has an error in it. If there is no error, choose 'No error'.**

The 91 year old lady have been a fan of cricket for decades. /No error

- Ans
- 1. of cricket for decades
  - 2. No error
  - 3. The 91 year old lady
  - 4. have been a fan

Question ID : 239087951  
Status : Answered  
Chosen Option : 1

**Q.6 Choose the correctly spelt word.**

- Ans
- 1. Ignorence
  - 2. Interupt
  - 3. Thriller
  - 4. Colaborate

Question ID : 239087973  
Status : Answered  
Chosen Option : 3

**Q.7 Choose the correctly spelt word.**

- Ans
- 1. Knowledge
  - 2. Patner
  - 3. Lisence
  - 4. Neice

Question ID : 239087974  
Status : Answered  
Chosen Option : 1

**Q.8 Select the most appropriate option to substitute the underlined segment in the given sentence. If there is no need to substitute it, select No Improvement.**

You need have brought your umbrella as it is a cloudy day.

- Ans
- 1. can have
  - 2. could has
  - 3. should have
  - 4. No Improvement

Question ID : 239087954  
Status : Answered  
Chosen Option : 3

Q.9 Select the most appropriate meaning of the given idiom.

Eye wash

- Ans  1. A problem  
 2. A fact  
 3. A solution  
 4. A deception

Question ID : 239087970  
Status : Answered  
Chosen Option : 4

Q.10 Select the most appropriate synonym of the given word.

Benevolent

- Ans  1. Miser  
 2. Cruel  
 3. Malevolent  
 4. Generous

Question ID : 239087965  
Status : Answered  
Chosen Option : 4

**Comprehension:**

In the following passage some words have been deleted. Fill in the blanks with the help of the alternatives given. Select the most appropriate option for each blank.

Buffer stock refers to a (1)\_\_\_\_\_ of a commodity that is used to offset price fluctuations (2)\_\_\_\_\_ unforeseen emergencies. Buffer stock is generally (3)\_\_\_\_\_ for essential commodities and necessities like food grains, pulses, etc. The Cabinet Committee (4)\_\_\_\_\_ Economic Affairs (5)\_\_\_\_\_ the minimum buffer stock on a quarterly basis.

**SubQuestion No : 11**

Q.11 Select the most appropriate option for blank No. 1.

- Ans  1. reservation  
 2. reserved  
 3. reserve  
 4. reserves

Question ID : 239087960  
Status : Answered  
Chosen Option : 3

**Comprehension:**

In the following passage some words have been deleted. Fill in the blanks with the help of the alternatives given. Select the most appropriate option for each blank.

Buffer stock refers to a (1)\_\_\_\_\_ of a commodity that is used to offset price fluctuations (2)\_\_\_\_\_ unforeseen emergencies. Buffer stock is generally (3)\_\_\_\_\_ for essential commodities and necessities like food grains, pulses, etc. The Cabinet Committee (4)\_\_\_\_\_ Economic Affairs (5)\_\_\_\_\_ the minimum buffer stock on a quarterly basis.

**SubQuestion No : 12**

**Q.12 Select the most appropriate option for blank No. 2.**

- Ans
- 1. if
  - 2. and
  - 3. also
  - 4. even

Question ID : 239087961  
Status : Answered  
Chosen Option : 2

**Comprehension:**

In the following passage some words have been deleted. Fill in the blanks with the help of the alternatives given. Select the most appropriate option for each blank.

Buffer stock refers to a (1)\_\_\_\_\_ of a commodity that is used to offset price fluctuations (2)\_\_\_\_\_ unforeseen emergencies. Buffer stock is generally (3)\_\_\_\_\_ for essential commodities and necessities like food grains, pulses, etc. The Cabinet Committee (4)\_\_\_\_\_ Economic Affairs (5)\_\_\_\_\_ the minimum buffer stock on a quarterly basis.

**SubQuestion No : 13**

**Q.13 Select the most appropriate option for blank No. 3.**

- Ans
- 1. maintains
  - 2. maintaining
  - 3. maintained
  - 4. maintain

Question ID : 239087962  
Status : Answered  
Chosen Option : 4

**Comprehension:**

In the following passage some words have been deleted. Fill in the blanks with the help of the alternatives given. Select the most appropriate option for each blank.

Buffer stock refers to a (1)\_\_\_\_\_ of a commodity that is used to offset price fluctuations (2)\_\_\_\_\_ unforeseen emergencies. Buffer stock is generally (3)\_\_\_\_\_ for essential commodities and necessities like food grains, pulses, etc. The Cabinet Committee (4)\_\_\_\_\_ Economic Affairs (5)\_\_\_\_\_ the minimum buffer stock on a quarterly basis.

**SubQuestion No : 14**

**Q.14 Select the most appropriate option for blank No. 4.**

- Ans
- 1. in
  - 2. for
  - 3. to
  - 4. at

Question ID : 239087963  
Status : Answered  
Chosen Option : 2

**Comprehension:**

In the following passage some words have been deleted. Fill in the blanks with the help of the alternatives given. Select the most appropriate option for each blank.

Buffer stock refers to a (1)\_\_\_\_\_ of a commodity that is used to offset price fluctuations

(2)\_\_\_\_\_ unforeseen emergencies. Buffer stock is generally (3)\_\_\_\_\_ for essential commodities and necessities like food grains, pulses, etc. The Cabinet Committee (4)\_\_\_\_\_ Economic Affairs (5)\_\_\_\_\_ the minimum buffer stock on a quarterly basis.

**SubQuestion No : 15**

**Q.15 Select the most appropriate option for blank No. 5.**

- Ans
- 1. forces
  - 2. guides
  - 3. fixes
  - 4. rules

Question ID : 239087964  
Status : Answered  
Chosen Option : 3

**Q.16 Select the most appropriate option to fill in the blank.**

They sat by the river bank with their legs \_\_\_\_\_ in the water.

- Ans
- 1. remaining
  - 2. swimming
  - 3. washing
  - 4. dangling

Question ID : 239087975  
Status : Answered  
Chosen Option : 4

**Q.17 Select the most appropriate antonym of the given word.**

Linger

- Ans
- 1. Quicken
  - 2. Stop
  - 3. Wait
  - 4. Defer

Question ID : 239087968  
Status : Answered  
Chosen Option : 1

**Q.18 Select the most appropriate option to fill in the blank.**

A twelve year old boy drowned in a pit \_\_\_\_ up for the coastal road project.

- Ans
- 1. dig
  - 2. digs
  - 3. digging
  - 4. dug

Question ID : 239087958  
Status : Answered  
Chosen Option : 4

**Q.19 Select the most appropriate option to fill in the blank.**

She had a bandage \_\_\_\_\_ round her finger.

- Ans
- 1. covered
  - 2. twisted
  - 3. wrapped
  - 4. bound

Question ID : 239087976  
Status : Answered  
Chosen Option : 3

Q.20 Select the most appropriate option to substitute the underlined segment in the given sentence. If there is no need to substitute it, select No Improvement.

He made multiple attempts at securing a government job.

- Ans
- 1. attempt in
  - 2. No Improvement
  - 3. attempt for
  - 4. attempts through

Question ID : 239087955  
Status : Answered  
Chosen Option : 1

Q.21 Select the most appropriate option to fill in the blank.

We cannot quote a price \_\_\_\_\_ we are allowed to examine the sample.

- Ans
- 1. except
  - 2. unless
  - 3. because
  - 4. whether

Question ID : 239087957  
Status : Answered  
Chosen Option : 4

Q.22 Find the part of the given sentence that has an error in it. If there is no error, choose 'No error'.

It would take up few of my time to explain to you the whole case. /No error

- Ans
- 1. few of my time to
  - 2. No error
  - 3. explain to you the whole case
  - 4. It would take up

Question ID : 239087952  
Status : Answered  
Chosen Option : 1

Q.23 Select the most appropriate antonym of the given word.

Jovial

- Ans
- 1. Hesitant

✓ 2. Gloomy

✗ 3. Cheerful

✗ 4. Tired

Question ID : 239087967

Status : Answered

Chosen Option : 2

Q.24 Find the part of the given sentence that has an error in it. If there is no error, choose 'No error'.

He always stood up for the rights of the oppressed. /No error

Ans ✓ 1. No error

✗ 2. He always stood up

✗ 3. of the oppressed

✗ 4. for the rights

Question ID : 239087953

Status : Not Answered

Chosen Option : --

Q.25 Select the most appropriate synonym of the given word.

Harass

Ans ✓ 1. Molest

✗ 2. Assist

✗ 3. Comfort

✗ 4. Scare

Question ID : 239087966

Status : Answered

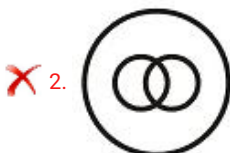
Chosen Option : 1

Section : General Intelligence & Reasoning

Q.1 Identify the diagram that best represents the relationship among the given classes.

Lawyer, Profession, Client

Ans



✗ 4.



Question ID : 239087723

Status : Answered

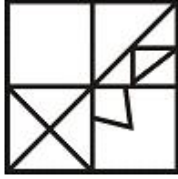
Chosen Option : 3

Q.2 दी गई उत्तर आकृतियों में से, उस उत्तर आकृति को चुनिए जिसमें नीचे दी गई प्रश्न आकृति में समाहित/अन्तर्निहित है।(आकृति को घुमाने की अनुमति नहीं है)

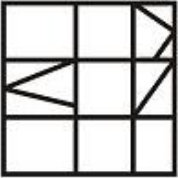


Ans

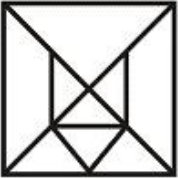
✗ 1.



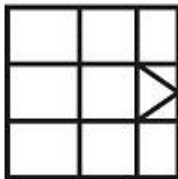
✗ 2.



✗ 3.



✓ 4.



Question ID : 239087720

Status : Answered

Chosen Option : 4

Q.3 एक विशिष्ट कूट भाषा में, 'FRAUD' को '6181214' लिखा जाता है, 'RING' को '189147' लिखा जाता है। उसी कूट भाषा में 'GLOBE' का कोड क्या होगा?

Ans

✗ 1. 7525121

✗ 2. 7125125

✗ 3. 7131525

✓ 4. 7121525

Question ID : 239087705

Status : Answered

Chosen Option : 4

Q.4 निम्नलिखित विकल्पों में से उस शब्द युग्म को चुनिए, जिनमें वही संबंध है, जो नीचे दिए गए शब्द युग्म में है।



भोजन : रसोइया :: ?

- Ans
- 1. किसान : फसल
  - 2. फर्नीचर : लकड़ी
  - 3. दर्जी : वस्त्र
  - 4. गहने : सुनार

Question ID : 239087701

Status : Answered

Chosen Option : 4

Q.5 नीचे दिए विकल्पों में से उस संख्या को चुनिए जो निम्नलिखित श्रृंखला में प्रश्न चिह्न (?) के स्थान पर आएगी।

63, 82, 102, 123, 145, ?

- Ans
- 1. 168
  - 2. 178
  - 3. 167
  - 4. 159

Question ID : 239087712

Status : Answered

Chosen Option : 1

Q.6 किन दो संख्याओं को परस्पर बदलने पर समीकरण सही हो जाएगा?

$$9 - 2 \times 4 \div 6 = -3$$

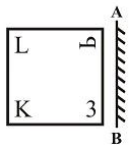
- Ans
- 1. 2 तथा 4
  - 2. 6 तथा 2
  - 3. 4 तथा 9
  - 4. 6 तथा 9

Question ID : 239087717

Status : Answered

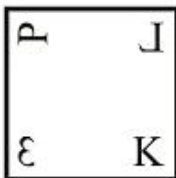
Chosen Option : 2

Q.7 यदि एक दर्पण को AB रेखा पर रखा जाए, तो दी गई उत्तर आकृतियों में से कौन सी आकृति प्रश्न आकृति की सही प्रतिबिंब होगी?



Ans

1.



✗ 2.

P	L
E	K

✓ 3.

P	J
E	K

✗ 4.

P	J
E	K

Question ID : 239087721

Status : Answered

Chosen Option : 3

Q.8 एक विशिष्ट कूट भाषा में, 'LIP' को '40' लिखा जाता है, 'GILT' को '51' लिखा जाता है। उसी कोड भाषा में 'ROPE' का कोड क्या होगा?

Ans ✓ 1. 57

✗ 2. 56

✗ 3. 51

✗ 4. 54

Question ID : 239087706

Status : Answered

Chosen Option : 1

Q.9 नीचे एक श्रृंखला दी गयी है, जिसमें से एक अक्षर समूह नहीं दिया गया है। दिए गए विकल्पों में से वह सही विकल्प चुनिए, जो श्रृंखला को पूरा करेगा।

ROD, XUJ, DAP, JGV, ?

Ans ✗ 1. QNC

✗ 2. PNB

✗ 3. QMB

✓ 4. PMB

Question ID : 239087699

Status : Answered

Chosen Option : 2

Q.10 निम्नलिखित प्रश्न में, दिए गए विकल्पों में से उस संख्या को चुनिए जो प्रश्न चिह्न (?) के स्थान पर आएगी।

6 3 8 20

9 5 1 ?

11 4 7 26

Ans ✓ 1. 20

✗ 2. 17

3. 19

4. 14

Question ID : 239087715

Status : Answered

Chosen Option : 3

Q.11 पाँच फिल्मों K, L, M, N तथा P (जरूरी नहीं कि वे इसी क्रम में हो) को सोमवार से शुक्रवार तक दिखाया जाता है। एक दिन में केवल एक ही फिल्म दिखाई जाती है। प्रत्येक फिल्म केवल एक ही बार दिखाई जाती है। फिल्म K सोमवार को दिखाई जाती है। N तथा P के मध्य दो फिल्में दिखाई जाती हैं। L, P के ठीक एक दिन बाद दिखाई जाती है। M से पहले कितनी फिल्में दिखाई जाती हैं?

Ans 1. 2

2. 4

3. 1

4. 3

Question ID : 239087709

Status : Answered

Chosen Option : 4

Q.12 नीचे दिए गए प्रश्न में, कुछ कथन और उनके बाद उन कथनों पर आधारित कुछ निष्कर्ष दिए गए हैं। दिए गए कथनों को सही मानते हुए, चाहे वे सामान्य रूप से ज्ञात तथ्यों से भिन्न प्रतीत होते हों, सभी निष्कर्षों को पढ़िए और फिर निर्धारित कीजिए कि दिए गए कौन से/सा निष्कर्ष, कथनों का तार्किक रूप से अनुसरण करता/करते हैं।

कथन:

I. सभी फोटो फोन हैं।

II. कुछ फोन पीले हैं।

III. कोई पीला लाल नहीं है।

निष्कर्ष:

I. कुछ लाल फोटो हैं।

II. कुछ पीले फोन हैं।

III. कोई लाल फोटो नहीं है।

Ans 1. केवल निष्कर्ष I अनुसरण करता है।

2. कोई भी निष्कर्ष अनुसरण नहीं करता है।

3. केवल निष्कर्ष II अनुसरण करता है।

4. केवल निष्कर्ष III अनुसरण करता है।

Question ID : 239087710

Status : Answered

Chosen Option : 3

Q.13 नीचे दिए गए प्रश्न में, कुछ कथन और उनके बाद उन कथनों पर आधारित कुछ निष्कर्ष दिए गए हैं। दिए गए कथनों को सही मानते हुए, चाहे वे सामान्य रूप से ज्ञात तथ्यों से भिन्न प्रतीत होते हों, सभी निष्कर्षों को पढ़िए और फिर निर्धारित कीजिए कि दिए गए कौन-से/सा निष्कर्ष, कथनों का तार्किक रूप से अनुसरण करता/करते हैं।

कथन:

I. सभी T, P हैं।

II. कुछ P, Q हैं।

निष्कर्ष:

I. कुछ Q, P हैं।

II. कुछ P, T हैं।

Ans 1. केवल निष्कर्ष II अनुसरण करता है।

2. केवल निष्कर्ष। अनुसरण करता है।
3. दोनों निष्कर्ष। तथा II अनुसरण करते हैं।
4. कोई भी निष्कर्ष अनुसरण नहीं करता है।

Question ID : 239087711  
Status : Answered  
Chosen Option : 3

Q.14 नीचे दिए विकल्पों में से उस संख्या युग्म को चुनिए जो निम्नलिखित श्रृंखला में प्रश्न चिह्नों (?) के स्थान पर आएगी।

16, 17, 23, 18, 19, 26, 20, 21, 29, 22, ?, ?

- Ans  1. 23, 32
2. 25, 36
3. 32, 23
4. 36, 25

Question ID : 239087713  
Status : Answered  
Chosen Option : 1

Q.15 छः चिकित्सक E, G, I, K, M तथा O एक पंक्ति में उत्तर की ओर मुख करके खड़े हुए हैं (जरूरी नहीं कि वे इसी क्रम में हों)। M, E के तुरंत दायीं ओर खड़ा हुआ है। K, O के दायीं ओर दूसरे स्थान पर खड़ा हुआ है। I तथा M के मध्य दो चिकित्सक खड़े हुए हैं। K, G के बायीं ओर है। K के तुरंत दायीं ओर कौन खड़ा हुआ है?

- Ans  1. I
2. G
3. E
4. M

Question ID : 239087707  
Status : Answered  
Chosen Option : 3

Q.16 निम्नलिखित प्रश्न में, दिए गए विकल्पों में से संबंधित अक्षर युग्म को चुनिए।

TIR : VKT :: ?

- Ans  1. RAP : TCS
2. LOD : NMF
3. GEM : IGO
4. GAR : IYT


Question ID : 239087702  
Status : Answered  
Chosen Option : 3

Q.17 एक विशिष्ट कूट भाषा में, 'SOLVED' को 'OSVLDE' लिखा जाता है। उसी कूट भाषा में 'CREATE' का कोड क्या होगा?

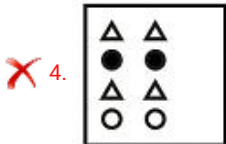
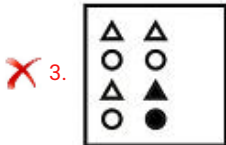
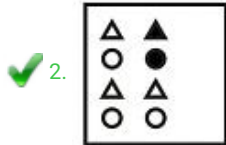
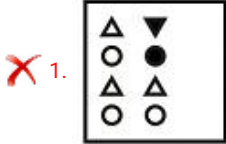
- Ans  1. RCAETE
2. RCEAET
3. RCTAEE

Question ID : 239087703  
 Status : Answered  
 Chosen Option : 4

Q.18 निम्नलिखित प्रश्न में, दिए गए विकल्पों में से प्रश्न चिह्न (?) के स्थान पर आने वाली आकृति को चुनिए।

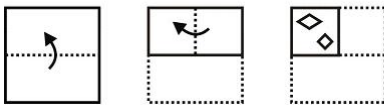


Ans

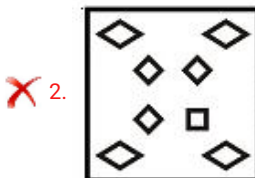
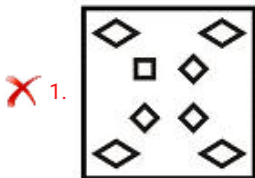


Question ID : 239087718  
 Status : Answered  
 Chosen Option : 3

Q.19 नीचे दी गयी प्रश्न आकृतियों में दिखाए अनुसार कागज के एक टुकड़े को मोड़ा जाता है और छेद किया जाता है। जब इसको खोला जाएगा तो वह दी गयी उत्तर आकृतियों में से किसके जैसा दिखाई देगा?




Ans



✗ 3.



✓ 4.



Question ID : 239087722

Status : Answered

Chosen Option : 4

Q.20 उस विकल्प का चयन करें जो तीसरे शब्द से उसी तरह से संबंधित है जैसे दूसरा शब्द पहले शब्द से संबंधित है।

ईट : दीवार :: स्वर्ण : ?

Ans ✓ 1. गहने

✗ 2. धातु

✗ 3. पीला

✗ 4. सख्त

Question ID : 239087700

Status : Answered

Chosen Option : 1

Q.21 उस विकल्प का चयन करें जो तीसरी संख्या से उसी तरह से संबंधित है जैसे दूसरी संख्या पहली संख्या से संबंधित है।

31 : 54 :: 43 : ?

Ans ✗ 1. 74

✗ 2. 64

✓ 3. 66

✗ 4. 76

Question ID : 239087714

Status : Answered

Chosen Option : 4

Q.22 दिए गए पैटर्न का ध्यानपूर्वक अध्ययन कीजिए और उस आकृति को चुनिए जो प्रश्न आकृति में दिये गए पैटर्न को पूरा करेगी।



Ans

✓ 1.



✗ 2.





Question ID : 239087719

Status : Answered

Chosen Option : 1

Q.23 छः कर्मचारी L, N, P, R, T तथा V केन्द्र की ओर मुख करके एक वृत्ताकार मेज के इर्द - गिर्द बैठे हुए हैं (जरूरी नहीं कि वे इसी क्रम में हों)। V, N के बायीं ओर दूसरा है। L, P के तुरंत बायीं ओर है। R, P के बायीं ओर दूसरा है। P, N के दायीं ओर तीसरा है। V के तुरंत दायीं ओर कौन बैठा हुआ है?

- Ans
- 1. P
  - 2. N
  - 3. T
  - 4. R

Question ID : 239087708

Status : Answered

Chosen Option : 3

Q.24 एक विशिष्ट कूट भाषा में, 'RAPID' को 'LUJCX' लिखा जाता है। उसी कूट भाषा में 'STARE' का कोड क्या होगा?

- Ans
- 1. MNULY
  - 2. NOULY
  - 3. MMULY
  - 4. NPULY

Question ID : 239087704

Status : Answered

Chosen Option : 1

Q.25 किन दो चिह्नों को परस्पर बदलने पर समीकरण सही हो जाएगा?

$$19 + 63 \div 7 - 8 \times 12 = 79$$

- Ans
- 1.  $\div$  तथा  $-$
  - 2.  $\times$  तथा  $+$
  - 3.  $-$  तथा  $\times$
  - 4.  $\times$  तथा  $\div$

Question ID : 239087716

Status : Answered

Chosen Option : 3

Section : Numerical Aptitude

Q.1 वह सबसे बड़ी संख्या कौन सी है जो 460, 491 तथा 553 को विभाजित करती है तो प्रत्येक मामले में 26 शेष रहता है?

- Ans
- 1. 27

2. 35

3. 33

4. 31

Question ID : 239087824

Status : Answered

Chosen Option : 4

Q.2 यदि लाभ, विक्रय मूल्य का 20% है, तो लाभ, लागत मूल्य का कितना प्रतिशत है?

Ans  1. 15%

2. 25%

3. 22.5%

4. 20%

Question ID : 239087833

Status : Answered

Chosen Option : 2

Q.3 यदि ₹12000 को 20% प्रति वर्ष की दर से चक्रवृद्धि ब्याज (वार्षिक रूप से संयोजित) पर 2 वर्ष के लिए निवेश किया गया है, तो ब्याज कितनी है?

Ans  1. ₹5280

2. ₹4280

3. ₹4800

4. ₹5640

Question ID : 239087838

Status : Answered

Chosen Option : 1

Q.4 a तथा b का औसत 36 है। b तथा c का औसत 42 है। c तथा a के बीच कितना अंतर है?

Ans  1. 18

2. 12

3. 16

4. 14

Question ID : 239087828

Status : Answered

Chosen Option : 2

Q.5  $(3 \times 4 \text{ of } 12 \div 2) \div 9 \times 4 + 4 \div 8 + 3 \times 2$  का मान कितना है?

Ans  1.  $\frac{89}{3}$

2.  $\frac{37}{2}$

3.  $\frac{94}{3}$



✓ 4.  $\frac{77}{2}$

Question ID : 239087825

Status : Answered

Chosen Option : 4

Q.6 59, 63, 68, 77, 74 तथा 73 का औसत कितना है, जब प्रत्येक संख्या को 23 से विभाजित किया जाता है?

Ans

✗ 1.  $\frac{63}{23}$

✗ 2.  $\frac{67}{23}$

✓ 3. 3

✗ 4. 46

Question ID : 239087827

Status : Answered

Chosen Option : 3

Q.7 यदि ₹1000 को 12.5% प्रति वर्ष की दर से साधारण ब्याज पर 2 वर्ष के लिए निवेश किया गया है, तो मिश्रधन कितना है?

Ans

✗ 1. ₹1125

✓ 2. ₹1250

✗ 3. ₹1325

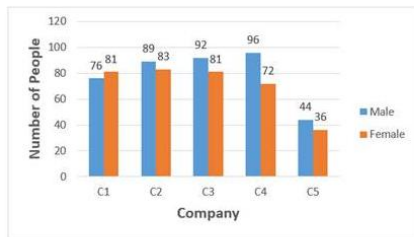
✗ 4. ₹1275

Question ID : 239087837

Status : Answered

Chosen Option : 2

Q.8 नीचे दिया गया दंड आरेख पाँच विभिन्न कंपनियों में कार्य करने वाले पुरुषों तथा महिलाओं की संख्या को दर्शाता है।



C2 तथा C3 कंपनियों में कार्य करने वाले पुरुषों की कुल संख्या तथा C1 तथा C5 कंपनियों में कार्य करने वाली महिलाओं की कुल संख्या का अनुपात कितना है?

Ans

✓ 1. 181 : 117

✗ 2. 182 : 119

✗ 3. 183 : 124

✗ 4. 171 : 136

Question ID : 239087848

Status : Answered

Chosen Option : 1

Q.9 नीचे दिए गए आँकड़े विभिन्न छात्रों द्वारा प्राप्त अंकों को प्रदर्शित करते हैं।

अंक	छात्रों की संख्या
10 - 12	6
12 - 14	8
14 - 16	5
16 - 18	7
18 - 20	4

दिये गए आँकड़े का माध्य अंक (दो दशमलव स्थान तक) कितना है?

- Ans
- 1. 13.67
  - 2. 13.33
  - 3. 14.67
  - 4. 15.33

Question ID : 239087830  
Status : Answered  
Chosen Option : 3

Q.10 A का 26% = 832 है। A के 31% का मान कितना है?

- Ans
- 1. 968
  - 2. 876
  - 3. 854
  - 4. 992

Question ID : 239087831  
Status : Answered  
Chosen Option : 4

Q.11 यदि  $X : Y : Z = 1 : 2 : 3$  तथा  $X^2 + Y^2 + Z^2 = 224$  है, तो  $X + Y + Z$  का मान कितना है?

- Ans
- 1. 48
  - 2. 32
  - 3. 36
  - 4. 24

Question ID : 239087835  
Status : Answered  
Chosen Option : 4

Q.12 14 cm की त्रिज्या वाले किसी ठोस अर्धगोले का सम्पूर्ण पृष्ठ क्षेत्रफल तथा वक्र पृष्ठ क्षेत्रफल कितना है?

- Ans
- 1.  $5544 \text{ cm}^2, 1848 \text{ cm}^2$

✓ 2.  $1848 \text{ cm}^2$ ,  $1232 \text{ cm}^2$

✗ 3.  $924 \text{ cm}^2$ ,  $616 \text{ cm}^2$

✗ 4.  $2772 \text{ cm}^2$ ,  $1848 \text{ cm}^2$

Question ID : 239087843

Status : Answered

Chosen Option : 2

Q.13 स्टूडियो A के 5 तकनीशियन किसी कार्य को 30 दिनों में कर सकते हैं। स्टूडियो B के 8 तकनीशियन उसी कार्य को 15 दिनों में कर सकते हैं। स्टूडियो A के 1 तकनीशियन और स्टूडियो B के 1 तकनीशियन मिलकर उसी कार्य को कितने दिनों में कर सकते हैं।

Ans

✗ 1.  $\frac{190}{3}$

✓ 2.  $\frac{200}{3}$

✗ 3.  $\frac{250}{9}$

✗ 4.  $\frac{220}{9}$

Question ID : 239087839

Status : Answered

Chosen Option : 2

Q.14 A किसी कार्य को अकेला 20 दिनों में कर सकता है। A तथा B मिलकर उसी कार्य को 15 दिनों में कर सकते हैं। B तथा C मिलकर उसी कार्य को  $\frac{75}{2}$  दिनों में कर सकते हैं। कार्य करने की दृष्टि से A, B तथा C की दक्षता का अनुपात कितना है?

Ans

✗ 1. 5 : 3 : 1

✗ 2. 10 : 4 : 1

✗ 3. 5 : 4 : 3

✓ 4. 15 : 5 : 3

Question ID : 239087840

Status : Answered

Chosen Option : 4

Q.15 वस्तु 1 का लागत मूल्य, उसे SP1 पर बेचने से हुए लाभ का 6 गुना है। वस्तु 2 का लागत मूल्य, उसे SP2 पर बेचने से हुई हानि का 3 गुना है। यदि दोनों वस्तुओं का लागत मूल्य समान है, तो SP1 तथा SP2 का अनुपात कितना है?

Ans

✓ 1. 7 : 4

✗ 2. 4 : 3

✗ 3. 6 : 5

✗ 4. 7 : 5

Question ID : 239087832

Status : Answered

Chosen Option : 1

Q.16

एक वस्तु का अंकित मूल्य ₹2800 है। वस्तु का विक्रय मूल्य ₹2408 है। छूट प्रतिशत कितना है?

- Ans
- 1. 18%
  - 2. 24%
  - 3. 16%
  - 4. 14%

Question ID : 239087829

Status : Answered

Chosen Option : 4

Q.17 किसी लंब वृत्तीय बेलन (सिलेंडर) की त्रिज्या 7 cm है। उसकी ऊँचाई उसकी त्रिज्या की दोगुनी है। बेलन (सिलेंडर) का वक्र पृष्ठ क्षेत्रफल कितना है?

( $\pi = \frac{22}{7}$  लें)

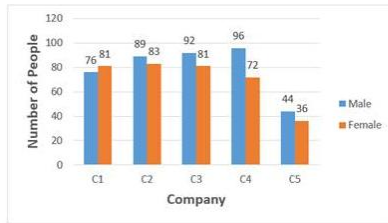
- Ans
- 1. 476 cm<sup>2</sup>
  - 2. 1232 cm<sup>2</sup>
  - 3. 616 cm<sup>2</sup>
  - 4. 896 cm<sup>2</sup>

Question ID : 239087844

Status : Answered

Chosen Option : 3

Q.18 नीचे दिया गया दंड आरेख पाँच विभिन्न कंपनियों में कार्य करने वाले पुरुषों तथा महिलाओं की संख्या को दर्शाता है।



इन पांच कंपनियों में कार्य करने वाले पुरुषों की कुल संख्या, इन पांच कंपनियों में कार्य करने वाली महिलाओं की कुल संख्या से (लगभग) कितना प्रतिशत अधिक है?

- Ans
- 1. 12.46%
  - 2. 9.67%
  - 3. 8.52%
  - 4. 14.67%

Question ID : 239087846

Status : Answered

Chosen Option : 1

Q.19 कोई रेलगाड़ी किसी स्थिर खंभे (स्टेशनरी पोल) को 3 मिनट में पार करती है। वह 600 मीटर लंबे प्लेटफॉर्म को 5 मिनट में पार करती है। रेलगाड़ी की लंबाई तथा गति कितनी है?

- Ans
- 1. 3600 m, 18 km/h
  - 2. 900 m, 18 km/h

3. 900 m, 15 km/h

4. 1200 m, 15 km/h

Question ID : 239087841

Status : Answered

Chosen Option : 2

Q.20 एक व्यक्ति A से B तक 30 km/h की गति से जाता है। वह B से A तक 20 km/h की गति से वापस लौट आता है। पूरी यात्रा में उसकी औसत गति कितनी है?

Ans  1. 26.5 km/h

2. 24 km/h

3. 25 km/h

4. 27.5 km/h

Question ID : 239087842

Status : Answered

Chosen Option : 2

Q.21 तीन कक्षाओं में विद्यार्थियों का अनुपात 3 : 4 : 5 है। यदि प्रत्येक कक्षा में 20 छात्र बढ़ा दिये जाते हैं तो अनुपात बदलकर 4 : 5 : 6 हो जाता है। तीनों कक्षाओं को मिलाकर उनमें छात्रों की आरंभिक संख्या कितनी है?

Ans  1. 280

2. 240

3. 320

4. 300

Question ID : 239087834

Status : Answered

Chosen Option : 2

Q.22 किसी षटभुज की भुजा 4 cm है। किसी वर्ग की भुजा  $4\sqrt{2}$  cm है। उनके क्षेत्रफल का अनुपात कितना है?

Ans  1.  $3\sqrt{3} : 2$

2.  $2\sqrt{3} : 1$

3.  $3\sqrt{3} : 4$

4.  $\sqrt{3}/2 : 1$

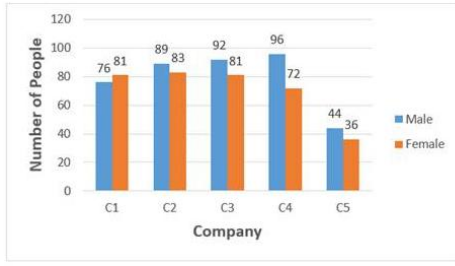
Question ID : 239087845

Status : Answered

Chosen Option : 3

Q.23

नीचे दिया गया दंड आरेख पाँच विभिन्न कंपनियों में कार्य करने वाले पुरुषों तथा महिलाओं की संख्या को दर्शाता है।



कार्य करने वाली महिलाओं की प्रति कंपनी औसत संख्या कितनी है?

- Ans
- 1. 71.8
  - 2. 74.6
  - 3. 72.2
  - 4. 70.6

Question ID : 239087847

Status : Answered

Chosen Option : 4

Q.24 यदि  $A = 8 \div 4 \times (3 - 1) + 6 \times 3 \div 2$  of 3 तथा  $B = 4 \div 8 \times 2 + 7 \times 3$  है, तो  $A + B$  का मान कितना है?

- Ans
- 1. 29
  - 2. 31
  - 3. 33
  - 4. 35

Question ID : 239087826

Status : Answered

Chosen Option : 1

Q.25 दो संख्याओं का योग 77 है तथा उनका अनुपात 6 : 5 है। उनका अंतर कितना है?

- Ans
- 1. 4
  - 2. 6
  - 3. 7
  - 4. 5

Question ID : 239087836

Status : Answered

Chosen Option : 3

Section : General awareness

Q.1 जुलाई 2019 में, निम्नलिखित में से किस शहर को यूनेस्को (UNESCO's) की विश्व विरासत सूची में सम्मिलित किया गया है?

- Ans
- 1. ओरछा
  - 2. अहमदाबाद
  - 3. हैदराबाद

✓ 4. जयपुर

Question ID : 239087574  
Status : Answered  
Chosen Option : 4

Q.2 15वें वित्त आयोग की अध्यक्षता किसने की?

- Ans
- ✗ 1. वाई वी रेड्डी
  - ✓ 2. एन के सिंह
  - ✗ 3. अमिताभ कांत
  - ✗ 4. उर्जित पटेल

Question ID : 239087584  
Status : Answered  
Chosen Option : 2

Q.3 निम्नलिखित में से कौन-सा युग्म सही है?

- Ans
- ✗ 1. केवलादेव घना राष्ट्रीय उद्यान-असम
  - ✗ 2. गिर राष्ट्रीय उद्यान-महाराष्ट्र
  - ✗ 3. नंदादेवी राष्ट्रीय उद्यान-उत्तर प्रदेश
  - ✓ 4. ग्रेट हिमालयन राष्ट्रीय उद्यान-हिमाचल प्रदेश

Question ID : 239087593  
Status : Marked For Review  
Chosen Option : 3

Q.4 निम्नलिखित में से किसको 'वेदांत' कहा जाता है?

- Ans
- ✗ 1. वेदांग
  - ✗ 2. ब्राह्मण
  - ✓ 3. उपनिषद
  - ✗ 4. अरण्यक

Question ID : 239087598  
Status : Marked For Review  
Chosen Option : 3

Q.5 निम्नलिखित में से किस राज्य में भारत की सबसे लंबी तट रेखा है?

- Ans
- ✗ 1. महाराष्ट्र
  - ✗ 2. गोवा
  - ✓ 3. आंध्र प्रदेश
  - ✗ 4. तमिलनाडु

Question ID : 239087595  
Status : Answered  
Chosen Option : 3

Q.6 Who is the Leader of the House in the Seventeenth Lok Sabha?

- Ans
- ✗ 1. Amit Shah
  - ✗ 2. Rajnath Singh

✓ 3. Narendra Modi

✗ 4. Sushil Kumar Shinde

Question ID : 239087585  
Status : Answered  
Chosen Option : 3

Q.7 निम्नलिखित में से भारत की कौन-सी भाषा अनूसूचित भाषा नहीं है?

Ans ✓ 1. राजस्थानी

✗ 2. सिंधी

✗ 3. मणिपुरी

✗ 4. बोडो

Question ID : 239087587  
Status : Marked For Review  
Chosen Option : 1

Q.8 राष्ट्रवादी कांग्रेस पार्टी का गठन किस वर्ष में किया गया था?

Ans ✓ 1. 1999

✗ 2. 1992

✗ 3. 1980

✗ 4. 1984

Question ID : 239087596  
Status : Marked For Review  
Chosen Option : 3

Q.9 मोहनजोदड़ो किस नदी के तट पर स्थित है?

Ans ✗ 1. सरस्वती

✗ 2. रावी

✗ 3. घग्गर

✓ 4. सिंधु

Question ID : 239087597  
Status : Answered  
Chosen Option : 4

Q.10 द्रोणाचार्य पुरस्कार किस क्षेत्र से संबंधित है?

Ans ✗ 1. शिक्षा

✗ 2. नृत्य

✗ 3. संगीत

✓ 4. खेल

Question ID : 239087578  
Status : Answered  
Chosen Option : 4

Q.11 निम्नलिखित विकल्पों में से कौन-सा धातु नहीं है?



- Ans
- 1. कॉपर
  - 2. आयर्न
  - 3. टिन
  - 4. सेलेनियम

Question ID : 239087589  
Status : Answered  
Chosen Option : 4

Q.12 निम्नलिखित में से किस देश की सीमा भारत के साथ नहीं लगती है?

- Ans
- 1. नेपाल
  - 2. ईरान
  - 3. म्यांमार
  - 4. बांग्लादेश

Question ID : 239087594  
Status : Answered  
Chosen Option : 2

Q.13 हिंदू पौराणिक कथाओं के संदर्भ, निम्नलिखित में से कौन-सा विकल्प भगवान विष्णु के दस अवतारों में से एक नहीं है?

- Ans
- 1. गरुड़
  - 2. मत्स्य
  - 3. कूर्म
  - 4. वाराह

Question ID : 239087575  
Status : Answered  
Chosen Option : 3

Q.14 विश्व एड्स दिवस कब मनाया जाता है?

- Ans
- 1. 8 मार्च
  - 2. 1 दिसंबर
  - 3. 5 जून
  - 4. 1 नवंबर

Question ID : 239087590  
Status : Answered  
Chosen Option : 2

Q.15 भारत में पंचवर्षीय योजना किस वर्ष में शुरू की गई थी?

- Ans
- 1. 1958
  - 2. 1951
  - 3. 1955
  - 4. 1947

Question ID : 239087582  
Status : Answered

Chosen Option : 2

Q.16 निम्नलिखित में से किसे 'लोकनायक' के नाम से जाना जाता है?

- Ans
- 1. अटल बिहारी वाजपेयी
  - 2. जयप्रकाश नारायण
  - 3. ए. पी. जे. अब्दुल कलाम
  - 4. राजीव गांधी

Question ID : 239087579

Status : Answered

Chosen Option : 2

Q.17 Which organization publishes 'World Development Report'?

- Ans
- 1. United Nations Development Programme (UNDP)
  - 2. World Economic Forum
  - 3. International Monetary Fund (IMF)
  - 4. World Bank

Question ID : 239087583

Status : Marked For Review

Chosen Option : 1

Q.18 Which award is often referred to as the 'Nobel Prize of architecture'?

- Ans
- 1. Pritzker prize
  - 2. Jawaharlal Nehru prize
  - 3. Ramon Magsaysay
  - 4. Abel prize

Question ID : 239087581

Status : Answered

Chosen Option : 4

Q.19 संविधान का कौन-सा भाग संविधान - संशोधनों से संबंधित है?

- Ans
- 1. भाग XV
  - 2. भाग X
  - 3. भाग VIII
  - 4. भाग XX

Question ID : 239087586

Status : Not Answered

Chosen Option : --

Q.20 निम्नलिखित में से किस भारतीय को नोबल पुरस्कार से सम्मानित नहीं किया गया है?

- Ans
- 1. महात्मा गांधी
  - 2. कैलाश सत्यार्थी
  - 3. हरगोबिंद खुराना
  - 4. रबींद्रनाथ टैगोर

Question ID : 239087580  
Status : Marked For Review  
Chosen Option : 1

Q.21 निम्नलिखित में से किस व्यक्ति को सबसे कम आयु में नोबेल पुरस्कार से सम्मानित किया गया था?

- Ans  1. विलियम लॉरेंस ब्रैग  
 2. जेम्स वाटसन  
 3. मेरी क्यूरी  
 4. केनेथ एरो

Question ID : 239087592  
Status : Not Answered  
Chosen Option : --

Q.22 प्रसिद्ध तेराक माइकल फेल्प्स \_\_\_\_\_ से संबंधित है।

- Ans  1. ऑस्ट्रेलिया  
 2. नॉर्वे  
 3. स्विट्ज़रलैंड  
 4. अमेरिका

Question ID : 239087577  
Status : Answered  
Chosen Option : 4

Q.23 The branch of medical science that deals with kidneys is known as:

- Ans  1. Ophthalmology  
 2. Cardiology  
 3. Otorhinolaryngology  
 4. Nephrology

Question ID : 239087591  
Status : Answered  
Chosen Option : 4

Q.24 हमारा राष्ट्रगान 'जन गण मन' किस भाषा से अपनाया गया है?

- Ans  1. हिन्दी  
 2. मराठी  
 3. असमिया  
 4. बांग्ला

Question ID : 239087576  
Status : Answered  
Chosen Option : 4

Q.25 सोने का प्रतीक क्या है?

- Ans  1. Mg  
 2. Hg  
 3. Ag

✓ 4. Au

Question ID : 239087588  
Status : Answered  
Chosen Option : 4